



# Castell d'Hostalric

QUADERN D'ACTIVITATS DIDÀCTIQUES

Cicle inicial




El poble d'Hostalric es troba en una plana situada entre els massissos muntanyosos del Montseny i del Montnegre. És el poble més petit de la comarca de la Selva i pel seu costat hi passa el riu Tordera i la riera d'Arbúcies.

Diuen que Hostalric té aquest nom perquè antigament hi ha havia un ric hostel a peu del camí ral, al seu pas per la vila d'Hostalric. Aquest camí era molt important, ja que era l'únic que hi havia per anar de Girona a Barcelona durant l'edat mitjana.

A Hostalric es conserven molts monuments d'època medieval, com la muralla i les torres, però el castell que ara podem veure és d'època moderna i es va construir sobre les restes de l'antic castell medieval dels Vescomtes de Cabrera.











La Clara ha d'anar al castell, vol portar alguna cosa de menjar pels soldats que n'estan al càrrec. Però no hi ha pujat mai i no sap trobar el camí per arribar-hi. L'ajudes?



En Siset de la Torre dels Frares va ser un soldat molt valent que va defensar Hostalric durant la Guerra del Francès.

Pinta'l seguint l'equivalència numèrica i de colors i sabràs com era el seu uniforme.

	1
	2
	3
	4
	5
	6
	7
	8



El castell d'Hostalric es troba al cim d'un antic volcà i està construït amb la pedra basàltica del mateix subsòl.

La seva construcció va estar molt pensada per fer front a la guerra i consta de diferents parts. Cadascuna d'aquestes té un nom i una funció. Busca aquestes parts del castell a la sopa de lletres.

**GLACIS - GARITA - REVELLÍ - FOSSAT - ESTACADA - BALUARD I POLVORÍ.**

G	A	R	I	T	A	Q	U
L	I	O	R	S	M	B	L
A	V	F	O	J	D	A	C
C	R	E	V	E	L	L	I
I	Y	U	L	N	A	U	B
S	A	F	O	S	S	A	T
I	G	O	P	L	H	R	M
E	S	T	A	C	A	D	A

Aquí pots relacionar cada part amb la seva funció:

**GLACIS**



Espai fons que envolta el castell i que serveix per a impedir que els enemics puguin entrar-hi. Poden estar plens d'aigua, però el d'Hostalric era sec.

**GARITA**



Construcció en forma de triangle situada davant del cos principal de la fortalesa.

**REVELLÍ**



És l'obra característica de les fortaleses. Té forma de pentàgon, per tant té cinc costats.

**FOSSAT**



Petita construcció situada a l'angle que mira cap a fora d'un baluard. Servia per vigilar.

**ESTACADA**



Espai net de vegetació i obstacles que envolta un castell o fortalesa.

**BALUARD**



Edifici on s'emmagatzemava la pólvora per a poder preparar i disparar projectils de guerra.

**POLVORÍ**



Construcció feta d'estaques de fusta que es clavaven sobre els murs que envolten el castell i servien de protecció.

**Fes memòria i respon a les següents preguntes:**

Quin riu passa pel costat d'Hostalric?


**LA T --- --- --- --- A**

Entre quines muntanyes es troba el poble d'Hostalric? Escull la resposta correcta:

- MONTSENY I MONTNEGRE**
- MONTNEGRE I GUILLERIES**

Amb quin tipus de pedra està construït el castell d'Hostalric?


**B --- --- --- T**



**Pinta al teu gust aquest racó del castell.**  
Recordes el nom d'aquest portal i perquè servia?

**PORTAL DE --- A --- --- --- S**

Servia per .....





## Voleu saber més coses sobre Hostalric?

Doneu un cop d'ull a la nostra web i a les xarxes socials per conèixer tot el que podeu fer en família al castell i a la vila medieval d'Hostalric.



**Oficina de Turisme d'Hostalric**  
Raval 45 (la Domus - Can Llensa)  
17450 Hostalric



**972 87 41 65 - 685 88 28 49**



**turisme@hostalric.cat**



**www.hostalric.cat**



**@visitahostalric**



**@visitahostalric**



**@OTHostalric**